



# Grade 1 Counting Worksheet



## Count by 10's



Fill in the missing numbers.

			40			70			
--	--	--	----	--	--	----	--	--	--

			40						100
--	--	--	----	--	--	--	--	--	-----

	20					70			
--	----	--	--	--	--	----	--	--	--

					60			90	
--	--	--	--	--	----	--	--	----	--

			40						100
--	--	--	----	--	--	--	--	--	-----

		30				70			
--	--	----	--	--	--	----	--	--	--


		30						90	
--	--	----	--	--	--	--	--	----	--

	20			50					
--	----	--	--	----	--	--	--	--	--

			40			70			
--	--	--	----	--	--	----	--	--	--




# Grade 1 Counting Worksheet



## Count by 10's

(forwards & backwards)



Fill in the missing numbers.

									120		140			
--	--	--	--	--	--	--	--	--	-----	--	-----	--	--	--

			170				130							
--	--	--	-----	--	--	--	-----	--	--	--	--	--	--	--


				160				120						
--	--	--	--	-----	--	--	--	-----	--	--	--	--	--	--

		40		60										
--	--	----	--	----	--	--	--	--	--	--	--	--	--	--


											90			60
--	--	--	--	--	--	--	--	--	--	--	----	--	--	----

											150			180
--	--	--	--	--	--	--	--	--	--	--	-----	--	--	-----


50													170	
----	--	--	--	--	--	--	--	--	--	--	--	--	-----	--



# Grade 1 Counting Worksheet



## Count by 10's



Fill in the missing numbers.

		70						130						
--	--	----	--	--	--	--	--	-----	--	--	--	--	--	--

									120		140			
--	--	--	--	--	--	--	--	--	-----	--	-----	--	--	--

									130			160		
--	--	--	--	--	--	--	--	--	-----	--	--	-----	--	--

				50										150
--	--	--	--	----	--	--	--	--	--	--	--	--	--	-----

				60			90							
--	--	--	--	----	--	--	----	--	--	--	--	--	--	--



											170	180		
--	--	--	--	--	--	--	--	--	--	--	-----	-----	--	--

									110				150	
--	--	--	--	--	--	--	--	--	-----	--	--	--	-----	--

			50					100						
--	--	--	----	--	--	--	--	-----	--	--	--	--	--	--